



Тема: «Обыкновенные дроби»
6 класс
(отделение коррекционного
обучения (8 вид))

Учитель первой
квалификационной
категории Г.В. Старикова.





• Угадайте, какие слова надо вставить?

• Каждый может за версту

Видеть дробную

Над чертой –, знайте,

Под чертою –

Дробь такую непременно

Надо звать ...

Посмотрите, что за дробь –

Дробь обыкновенная.

Проведем сегодня с ней

Действия *мгновенные*....





обыкновенные дроби

$$\frac{5}{6}$$

$$\frac{5}{2}$$

$$\frac{1}{2}$$

$$\frac{1}{4}$$

$$\frac{9}{12}$$


$$\frac{3}{3}$$

$$\frac{8}{8}$$

Это числа



В жизни встречается:



ЧАСТЬ записывается так:

$$\frac{1}{2}$$




$$\frac{1}{8}$$



Какая часть фигуры закрашена?

$\frac{3}{6}$

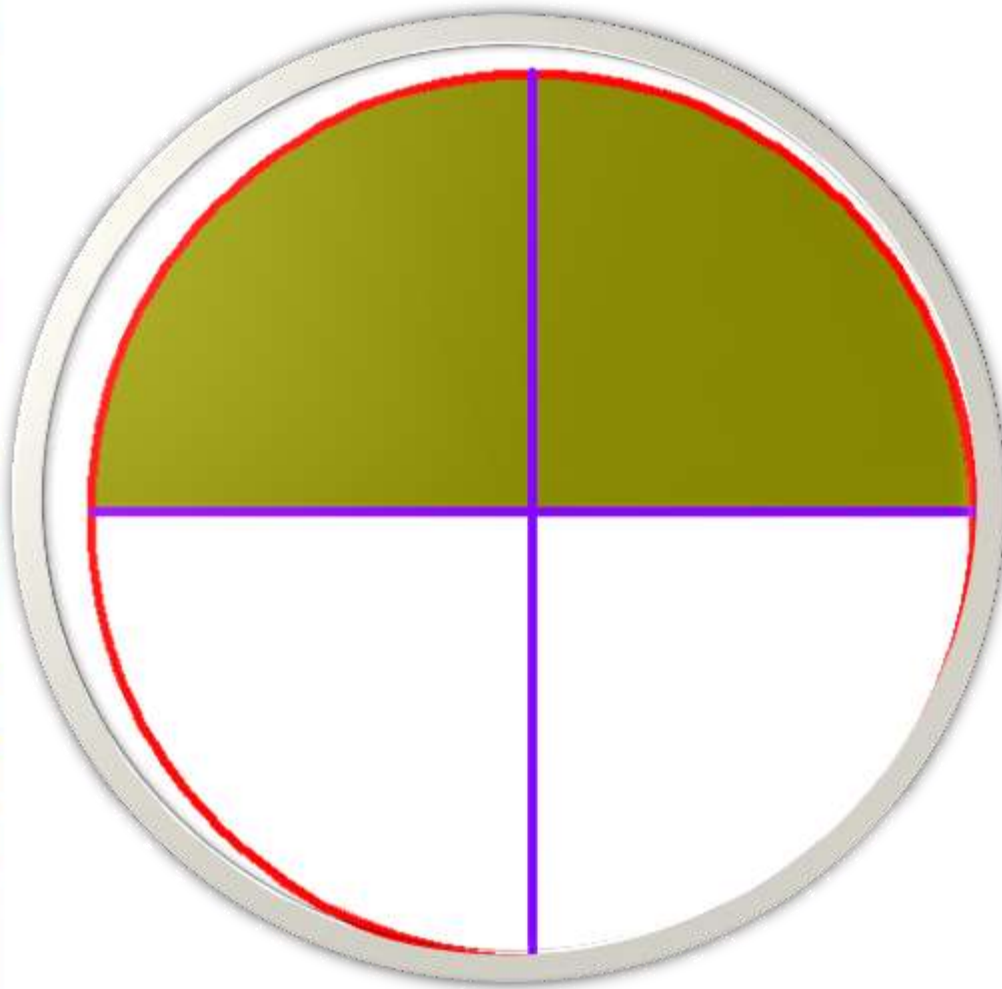
$\frac{1}{6}$



$\frac{2}{6}$



**Найди дробь, которая
соответствует белому цвету.**



$$\frac{2}{2}$$

$$\frac{2}{4}$$



Вопрос. Какая дробь лишняя?

$$\frac{3}{4} \quad \frac{1}{2} \quad \frac{31}{100} \quad \frac{13}{18} \quad \frac{56}{49} \quad \frac{111}{205}$$



Вопрос. Какая дробь называется неправильной?



Вопрос. Какая дробь лишняя?

$$\frac{72}{69} \quad \frac{18}{30} \quad \frac{46}{13} \quad \frac{17}{5} \quad \frac{38}{19} \quad \frac{42}{40}$$

Вопрос. Какая дробь называется правильной?

